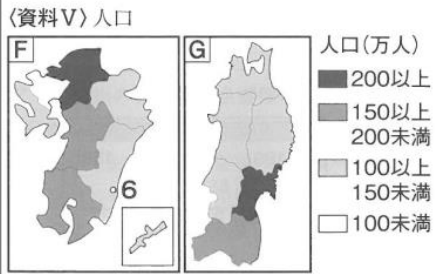


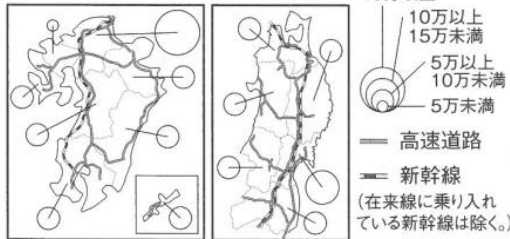
3 問5

- 地理的な傾向性（地理的な見方）を見いだす力を見る。
- 地理的な傾向性を、一般的な共通性として他の地域にあてはめる（地理的な考え方）力を見る。

〔人口からみた特色〕



〔資料VI〕事業所数と高速道路・新幹線の交通網



〔資料V, VIは、2017年版「データでみる県勢」等から作成〕

この二つの地方には、資料V, VIから、②人口と産業や交通との関係があることが読み取れる。

問5 下の□内は、雅子さんと雄介さんが、下線部②について会話した内容の一部である。〔㊸〕, 〔㊹〕それぞれにあてはまる内容と、〔㊺〕にあてはまる県名を書け。ただし、同じ記号には同じ内容や県名が入る。



雅子さん

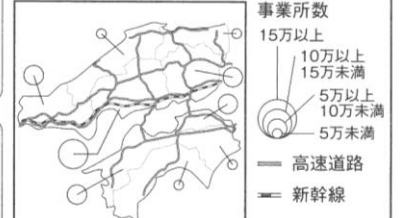
資料Vから、福岡県と宮城県に共通する特色は、それぞれの地方の県のうち、〔㊸〕ことだね。また、資料VIから、その両県は、〔㊹〕ことが共通しているね。この特色は、他の地方にもみられるのかな。



雄介さん

資料VIをみると、この地方の県のうち、〔㊺〕県が〔㊹〕ことがわかるね。〔㊺〕県はこの地方の県のうち、〔㊸〕ことを学習したので、〔㊺〕県は福岡県や宮城県と同じ特色があるといえるよね。

〔資料VII〕事業所数と高速道路・新幹線の交通網



〔2017年版「データでみる県勢」等から作成〕

【正答】

- 〔㊸〕(例) 最も人口が多い
〔㊹〕(例) 事業所数が最も多く、高速道路と新幹線が通っている 〔㊺〕 広島

授業場面で(見方や考え方を働かせることを大切に)した学習活動のある授業

資料Vから、九州地方と東北地方の人口分布の共通点は何でしょう。

各地方で人口が200万人以上の県は福岡と宮城の一つだけです。

では、福岡県と宮城県の人口が多いことと関係しそうなことを調べてみましょう。

Point
主題図は凡例を基に、全体の傾向と全体の中の部分の特色の両方に注目させることが大切です。

九州では、特に福岡県が交通の便がいいので、交通網の発達と関係があるんじゃないかな。

福岡と宮城は、第三次産業従事者の割合が高いから、産業との関係もあるんじゃないかな。

学生の多さも関係してるんじゃないかな。総合的な学習の時間に、大学などの学校数を調べた時福岡や宮城が多かったよ。

Point
関係のある事象を予想させる際には、既習の知識や資料などを基に、根拠を明確にさせることが重要です。

では、人口や交通、産業などの関係を整理してみましょう。

人口と産業や交通は、相互に影響し合っていることが言えそうです。

Point
原因と結果などの関係図やキーワードを相互につなげた図などを使いながら、見える形で示すことが大切です。

では、資料VIIの中国四国地方でも同じことがいえるでしょうか？

中国四国地方の人口はどうなっていたかな？

Point
中国四国地方の人口分布についても、主題図を作成させたり、地図帳で調べさせたりすることが大切です。

3つの地方から、どんな共通点がわかりますか？

人口の多い県は、産業や交通網などが発達しているという点です。

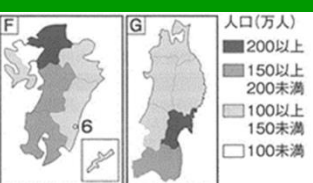
導入

展開

終末

めあて 地方の中で人口が集中している県の特色を探ろう。

資料V



・福岡県、宮城県が人口最大
何と関係があるの？

共通点

- ・交通の利便性が高い
- ・商店などの小売業が盛ん → 第三次産業の発達
- ・一人あたりの所得が多い
- ・大学などの数が多い

人口

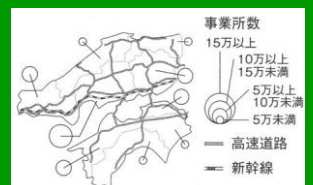
- ・人口の集中 → 労働者が豊富 → 事業所の増加
- ・事業所の増加 → 人口の流入
- ・人口(観光客を含む)の増加 → 交通網の発達
- ・産業の発達 → 賃金の上昇 → 人口の増加

相互に密接に関係している

産業

交通

資料VII



- ・広島県が人口最大
- ・事業所数が多い
- ・交通網が発達している

まとめ

人口の集中と産業や交通は関係している。